

**Universidade Federal de Ouro Preto**  
**Departamento de Matemática**

**MTM123 - Cálculo Integral e Diferencial II**

**Lista 1**

1. Suponha que  $f(x)$  e  $g(x)$  sejam funções integráveis tais que

$$\int_1^2 f(x)dx = -4, \quad \int_1^5 f(x)dx = 6, \quad \int_1^5 g(x)dx = 8$$

Calcule

(a)  $\int_2^2 g(x)dx.$

(c)  $\int_1^2 cf(x)dx.$

(e)  $\int_1^5 [f(x) - g(x)]dx.$

(b)  $\int_5^1 g(x)dx.$

(d)  $\int_2^5 f(x)dx.$

(f)  $\int_1^5 [4f(x) - g(x)]dx.$

2. Calcule:

(a)  $\int_0^2 x(x-3)dx.$

(g)  $\int_{\frac{\pi}{4}}^{\frac{3\pi}{4}} \operatorname{cosec}(x)\cotg(y)dx.$

(n)  $\frac{d}{dx} \left[ \int_0^{\sqrt{x}} \cos(t)dt \right].$

(b)  $\int_0^4 \left( 3x - \frac{x^3}{4} \right) dx.$

(h)  $\int_1^8 \frac{(x^{\frac{1}{3}} + 1)(2 - x^{\frac{2}{3}})}{x^{\frac{1}{3}}} dx.$

(o)  $\frac{d}{dx} \left[ \int_0^{\sqrt{x^4}} \sqrt{t} dt \right].$

(c)  $\int_0^1 (x^2 + \sqrt{x})dx.$

(i)  $\int_{\frac{\pi}{2}}^{\pi} \frac{\operatorname{sen}(x)}{2\operatorname{sen}(x)} dx.$

(p)  $\frac{d}{dy} \left[ \int_0^{\sqrt{y^3}} e^{-\beta} d\beta \right].$

(d)  $\int_0^{\frac{\pi}{3}} 2\sec^2(\theta)d\theta.$

(j)  $\int_{-4}^4 |x|dx.$

(q)  $\frac{d}{dx} \left[ \int_{\sqrt{x}}^0 \operatorname{sen}(t^2)dt \right].$

(e)  $\int_{\frac{\pi}{4}}^{\frac{3\pi}{4}} \operatorname{cosec}(\gamma)\cotg(\gamma)d\gamma.$

(k)  $\int_0^{\pi} \frac{1}{2} (\cos(z) + |\cos(z)|) dz.$

(r)  $\frac{d}{dx} \left[ \left( \int_0^x (t^3 + 1)^{10} dt \right)^3 \right].$

(f)  $\int_0^{\frac{\pi}{4}} \operatorname{tg}^2(y)dy.$

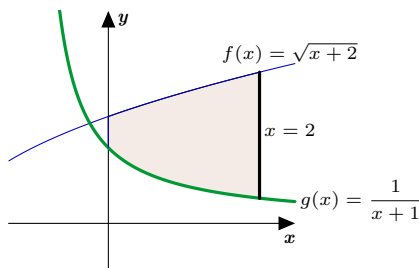
(l)  $\int_2^4 x^{\pi-1} dx.$

(s)  $\frac{d}{dx} \left[ \int_{-1}^x \frac{t^2}{t^2 + 4} dt - \int_3^x \frac{t^2}{t^2 + 4} dt \right].$

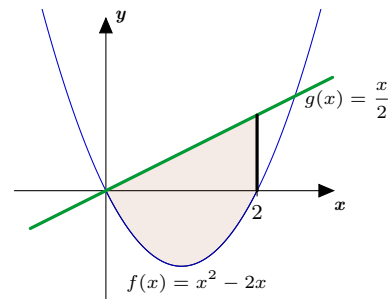
(t)  $\frac{d}{dx} \left[ \int_0^{\operatorname{sen}(x)} \frac{dt}{\sqrt{1-t^2}} \right], |x| < \frac{\pi}{2}$

3. Calcule a área das regiões sombreadas abaixo:

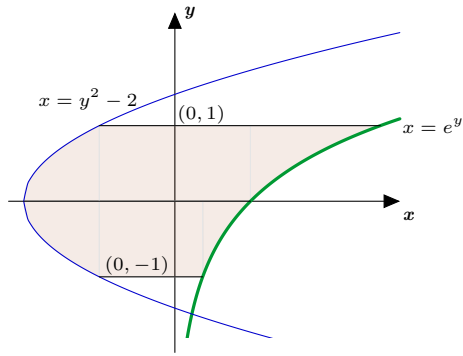
(a)



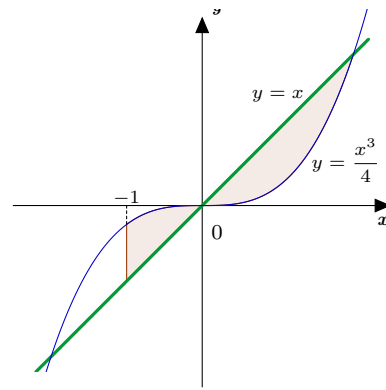
(b)



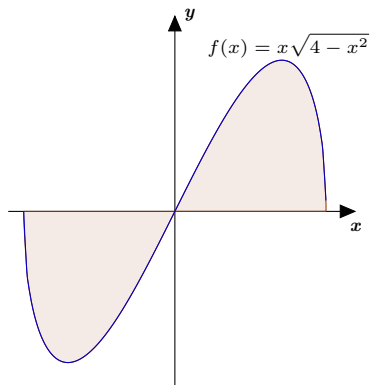
(c)



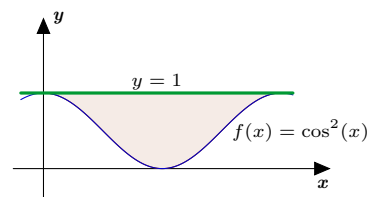
(d)



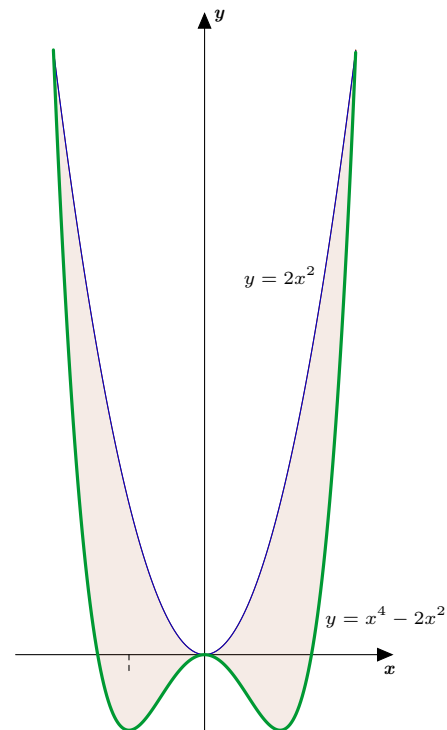
(e)



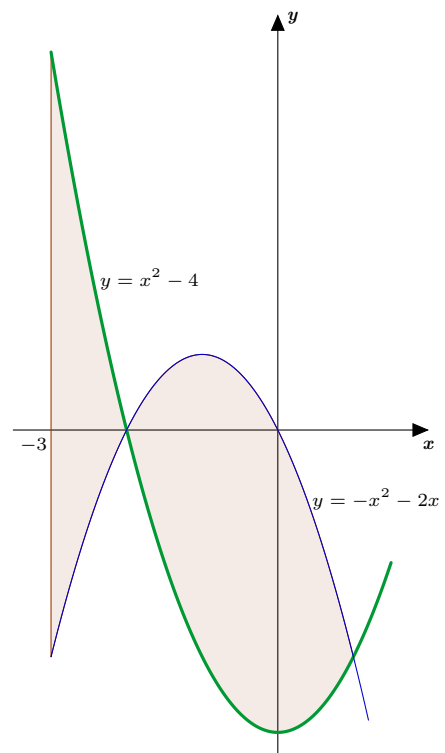
(f)



(g)



(h)



4. Esboce e calcule a área da região limitada pelas curvas:

(a)  $y = x^2, y = \frac{2}{x^2 + 1}$ .

(b)  $y = x^2, y^2 = x$ .

(c)  $y = e^x, y = e^{2x}, x = \ln(2)$ .

(d)  $y = \cos(x), y = \sin(2x), x = 0, x = \frac{\pi}{2}$ .

(e)  $y = 12 - x^2, y = x - 6$ .

(f)  $y = x^2, y = x + 6$ .

(g)  $x = 2y^2, y + x = 1$ .

(h)  $x = y^2, y - x = -2$ .

(i)  $y = 2 + |x - 1|, y = -\frac{1}{5}x + 7$ .

(j)  $y = 12 - x^2, y = x + 6$ .

(k)  $y = 12 - x^2, y = x - 8$ .

(l)  $y = 1 + \cos(x), y = 2, x = \pi$ .

(m)  $y = \sqrt{2}, y = \sec(\theta)\operatorname{tg}(\theta), \theta = -\frac{\pi}{4}$ .

5. Esboce e calcule a área da região limitada pelo eixo-x e pela curva:

(a)  $y = -x^2 - 2x, -3 \leq x \leq 2$ .

(b)  $y = x^3 - 3x^2 + 2x, 0 \leq x \leq 2$ .

6. Ache a reta horizontal  $y = c$  que divida a área entre as curvas  $y = x^2$  e  $y = 16$  em duas partes iguais. E a vertical?

7. Ache a reta vertical  $x = k$  que divida a área delimitada pelas curvas  $y = \ln(x), y = 1$  e  $x = e^5$  em duas partes iguais.

8. Determine a área da região do primeiro quadrante que é delimitada por  $y = \sqrt{x}$  e  $y = x - 2$  integrando em relação a  $x$ .

9. Determine a área da região do primeiro quadrante que é delimitada por  $y = \sqrt{x}$  e  $y = x - 2$  integrando em relação a  $y$ .

10. Determine a área da região delimitada por  $x = 2y^2 - 2y$  e  $x = 12y^2 - 12y^3$ .

11. Mostre que o volume de uma esfera de raio  $r$  é dado pela expressão  $V(r) = \frac{4}{3}\pi r^3$ .

12. Encontre o volume dos sólidos obtidos pela rotação das regiões ao longo do eixo-x:

(a)  $y = x^2, x = 1, y = 0$ .

(b)  $y = \sqrt{x}, x = 1, x = 4$ .

(c)  $y = 2 - x^2, x = \sqrt{2}, y = x$ .

(d)  $y = \sqrt{x-1}, x = 2, y = 0$ .

(e)  $y = x^2, x = y^2$ .

(f)  $y = e^x, x = 0, y = 0, x = \ln(3)$ .

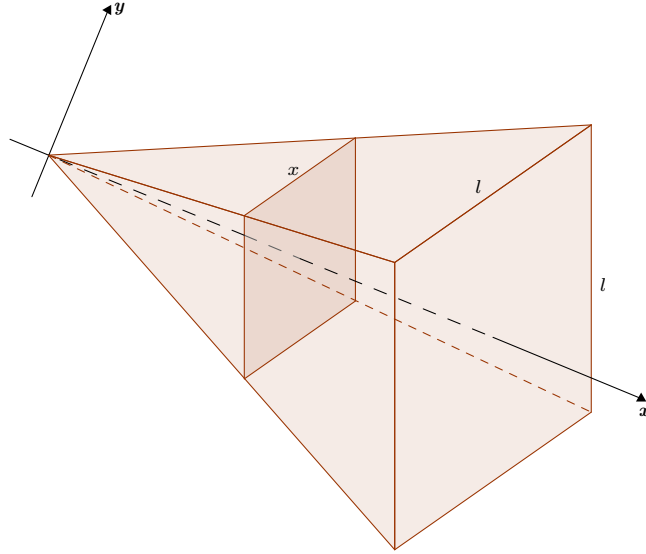
(g)  $y = \sec(x), y = 0, x = -\frac{\pi}{4}, x = \frac{\pi}{4}$ .

(h)  $y = \frac{1}{2\sqrt{x}}, x = \frac{\pi}{6}, x = \frac{\pi}{2}, y = 0$ .

(i)  $y = e^x, x = 0, x = 1, y = 0$ .

13. Obtenha o volume do sólido obtido pela rotação da região limitada pelas curvas  $y = x$  e  $y = \sqrt{x}$  ao longo da reta  $y = 1$ .

14. Uma pirâmide com altura  $h$  tem uma base quadrada com  $l$  metros de lado. Determine o seu volume.



15. Encontre ao longo volume dos sólidos obtidos pela rotação das regiões ao longo do eixo- $y$ :

(a)  $x = y^2, x = 2y.$

(b)  $x = y - y^2, x = 0.$

(c)  $x = \sqrt{1 + y}, x = 0, y = 3.$

(d)  $x = 1 - y^2, x = 2 + y^2, y = -1, y = 1.$

(e)  $x = y^2\sqrt{5}, x = 0, y = -1, y = 1.$

(f)  $x = \sqrt{2\text{sen}(2y)}, y = 0. y = \frac{\pi}{2}.$

(g)  $x = \sqrt{\cos\left(\frac{\pi y}{4}\right)}, y = -2, y = 0, x = 0.$

(h)  $x = \frac{2}{\sqrt{1 + y^2}}, x = 0, y = 1.$

16. Obtenha o volume do sólido obtido pela rotação da região limitada pelas curvas  $x = y^2$  e  $x = 1$  ao longo da reta  $x = 1$ .

17. Utilizando a técnica de cascas cilíndricas, calcule o volume dos sólidos obtidos pela rotação das regiões ao longo do eixo- $x$

(a)  $x = y^2, x = 1, x = 0.$

(b)  $x = 1 + y^2, x = 0, y = 1, y = 2.$

(c)  $y = x^2, x = 1, y = 0.$

(d)  $y = 4x^2, 2x + y = 6.$

18. Utilizando a técnica de cascas cilíndricas, calcule o volume dos sólidos obtidos pela rotação das regiões ao longo do eixo- $y$

(a)  $y = x^3, x = 1, y = 0.$

(b)  $y = x^2, x = 1, y = 0.$

(c)  $x = 2x - 1, y = -2x + 3, x = 2.$

(d)  $y = 4(x - 2)^2, y = x^2 - 4x + 7.$

19. Ache o comprimento de arco de cada curva abaixo nos intervalos especificados:

(a)  $y = \frac{x^5}{6} + \frac{1}{10x^3}, x \in [1, 2].$

(b)  $y = 3x^{\frac{3}{2}} - 1, x \in [0, 1].$

(c)  $y = \ln(\sec(x)), 0 \leq x \leq \frac{\pi}{4}.$

(d)  $2y = e^x + e^{-x}, x \in [0, 3].$

(e)  $y = e^x, 0 \leq x \leq 1.$

(f)  $y = \frac{4\sqrt{2}}{3}x^{\frac{3}{2}}, 0 \leq x \leq 1.$

(g)  $y = \cosh(x), 0 \leq x \leq 3.$

(h)  $y = \left(\frac{x}{2}\right)^{\frac{3}{2}}, 0 \leq x \leq 2.$

20. Calcule a área da superfície gerada pela rotação das regiões ao longo do eixo- $x$

(a)  $y = \sqrt{4 - x^2}, -1 \leq x \leq 1.$

(c)  $y = 7x, 1 \leq x \leq 4.$

(b)  $y = x^3, 0 \leq x \leq 2.$

(d)  $y = \sqrt{2x - x^2}, \frac{1}{2} \leq x \leq \frac{3}{2}.$

21. Calcule a área da superfície gerada pela rotação das regiões ao longo do eixo- $y$

(a)  $y = \sqrt[3]{x}, 1 \leq y \leq 2.$

(c)  $x = \sqrt{a^2 - y^2}, 0 \leq y \leq \frac{a}{2}.$

(b)  $x = \sqrt{9 - y^2}, -2 \leq y \leq 2.$

(d)  $x = \frac{y^3}{3}, 0 \leq y \leq 1.$

22. Em cada caso, avalie se a integral é divergente ou convergente:

(a)  $\int_{-\infty}^{+\infty} \frac{1}{1 + x^2} dx.$

(e)  $\int_{-\infty}^{+\infty} \frac{x}{1 + x^2} dx.$

(j)  $\int_{-\infty}^0 ye^y dy.$

(b)  $\int_0^1 \ln(x) dx.$

(f)  $\int_1^{+\infty} \frac{\ln(x)}{x} dx.$

(k)  $\int_2^0 \frac{dr}{\sqrt{1 - r^2}}.$

(c)  $\int_0^3 \frac{1}{x - 1} dx.$

(g)  $\int_1^{+\infty} \frac{\cos^2(x)}{1 + x^2} dx.$

(l)  $\int_0^{+\infty} \frac{dx}{(x + 1)(x^2 + 1)}.$

(d)  $\int_1^{+\infty} \frac{1}{(3x + 1)^2} dx.$

(h)  $\int_1^{+\infty} \frac{dx}{x + e^x}.$

(m)  $\int_{\pi}^{+\infty} \frac{2 + \cos x}{x} dx.$

(i)  $\int_{-1}^1 \frac{1}{1 + x^{\frac{2}{3}}} dx.$

23. Determine para quais valores de  $p$  as seguintes integrais são convergentes:

(a)  $\int_0^1 \frac{1}{x^p} dx.$

(b)  $\int_0^1 x^p \ln(x) dx.$

(c)  $\int_2^{\infty} \frac{1}{x(\ln(x))^p} dx.$

Algumas respostas:

- 1a. 0.      1b. -8.      1c. -12.      1d. 10.      1e. -2.      1f. 16.      2a.  $-\frac{10}{3}$ .      2b. 8.
- 2c. 1.      2d.  $2\sqrt{3}$ .      2e. 0.      2f.  $1 - \frac{\pi}{4}$ .      2g.  $2\ln(1 + \sqrt{2})\cotg(y)$ .
- 2h.  $\frac{3}{20} - 7$ .      2i. -1.      2j. 16.      2k. 1.      2l.  $\frac{1}{\pi}(4^\pi - 2^\pi)$ .      2m.  $\frac{\pi - 1}{\pi^2 \ln(\pi)}$ .
- 2n.  $(\cos(\sqrt{x})) \left( \frac{1}{2\sqrt{x}} \right)$ .      2o.  $2x^2$ .      2p.  $3y^2 e^{-y^3}$ .      2q.  $-\frac{1}{2}x^{-\frac{1}{2}}\text{sen}(x)$ .
- 2r.  $2(x^3 + 1)^{10} \left( \int_0^x (t^3 + 1)^{10} dt \right)^2$ .      2s. 0.      2t. 1.
- 3a.  $\frac{1}{3}(16 - 4\sqrt{2} - \ln(3))$  u.a.;      3b.  $\frac{7}{3}$  u.a.;      3c.  $e - \frac{1}{e} + \frac{10}{3}$  u.a.;
- 3d.  $\frac{23}{16}$  u.a.      3e.  $\frac{16}{3}$  u.a.      3f.  $\frac{\pi}{2}$  u.a.      3g.  $\frac{128}{15}$  u.a.      3h.  $\frac{38}{3}$  u.a.      4a.  $\pi - \frac{2}{3}$  u.a.      4b.  $\frac{1}{3}$  u.a.      4c.  $\frac{1}{2}$  u.a.
- 4d.  $\frac{1}{2}$  u.a.      4e.  $\frac{37\sqrt{73}}{4}$  u.a.      4f.  $\frac{125}{6}$  u.a.      4g.  $\frac{9}{8}$  u.a.      4h.  $\frac{9}{2}$  u.a.      4i. 24 u.a.      4j.  $\frac{125}{6}$  u.a.      4k.  $\frac{243}{2}$  u.a.
- 4l.  $\pi$  u.a.      4m.  $\frac{\pi\sqrt{2}}{2}$  u.a.      5a.  $\frac{28}{3}$ .      5b.  $\frac{1}{2}$ .      6. Horizontal:  $y = 8\sqrt[3]{2}$  e Vertical:  $x = 0$ .

7. A reta é  $x = k$ , onde  $k$  satisfaz a equação:  $k(\ln(k) - 2) = \frac{3}{2}e^5 - e$ .

8.  $\frac{10}{3}$ .      9.  $\frac{10}{3}$ .      10.  $\frac{4}{3}$ .      12a.  $\frac{\pi}{5}$ .      12b.  $\frac{15\pi}{2}$ .      12c.  $\frac{38\pi}{15} - \frac{22\sqrt{2}\pi}{15}$ .      12d.  $\frac{\pi}{2}$ .      12e.  $\frac{3\pi}{10}$ .

- 12f.  $4\pi$ .      12g.  $2\pi$ .      12h.  $\frac{\pi \ln(4)}{2}$ .      12i.  $\frac{\pi}{2} \left(1 - \frac{1}{e^2}\right)$       13.  $\frac{\pi}{6}$ .      14.  $\frac{hl^2}{3}$ .      15a.  $\frac{64\pi}{15}$ .      15b.  $\frac{\pi}{30}$ .
- 15c.  $8\pi$ .      15d.  $10\pi$ .      15e.  $2\pi$ .      15f.  $2\pi$ .      15g.  $4$ .      15h.  $4\pi \ln(4)$ .      16.  $\frac{16\pi}{5}$ .      17a.  $\frac{\pi}{2}$ .
- 17b.  $\frac{21\pi}{2}$ .      17c.  $\frac{\pi}{5}$ .      17d.  $\frac{250\pi}{3}$ .      18a.  $\frac{2\pi}{5}$ .      18b.  $\frac{\pi}{2}$ .      18c.  $\frac{20\pi}{3}$ .      18d.  $16\pi$ .      19a.  $\frac{1261}{240}$ .
- 19b.  $\frac{85\sqrt{85} - 8}{243}$ .      19c.  $\ln(\sqrt{2} + 1)$ .      19d.  $\frac{1}{2}(e^3 - e^{-3})$ .
- 19e.  $\sqrt{1 + e^2} - \sqrt{2} + \ln\left(\frac{\sqrt{1 + e^2} - 1}{\sqrt{2} - 1}\right) - 1$ .      21a.  $\pi \frac{(145\sqrt{145} - 10\sqrt{10})}{27}$ .
- 19g.  $\frac{1}{2}(e^3 - e^{-3})$ .      19h.  $\frac{2}{27}(10\sqrt{10} - 1)$ .      20a.  $8\pi$ .      20b.  $\pi \frac{(145\sqrt{145} - 1)}{27}$ .      20c.  $525\pi\sqrt{2}$ .
- 20d.  $2\pi$ .      19f.  $\frac{13}{6}$ .      21b.  $24\pi$ .      21c.  $\pi a^2$ .      21d.  $\frac{\pi(\sqrt{8} - 1)}{9}$ .
- 22a. Convergente.      22d. Convergente.      22g. Convergente.      22j. Convergente.      22m. Divergente.
- 22b. Convergente.      22e. Divergente.      22h. Convergente.      22k. Convergente.
- 22c. Divergente.      22f. Divergente.      22i. Convergente.      22l. Convergente.
- 23a. Converge para  $p < 1$ . Diverge caso contrário.      23c. Converge para  $p > 1$ . Diverge caso contrário.
- 23b. Converge para  $p > -1$ . Diverge caso contrário.